



TARTMA

İki varlığın ağırlıklarını karşılaştırırken **ağır** ve **hafif** ifadelerini kullanırız.

Varlıkları tartmak için **eşit kollu terazi**, **elektronik terazi** ve **baskül** kullanırız.



Mert, Aylin'den daha **ağır**dır.



Fare, yavru filden daha **hafif**dir.



Yukarıdaki ulaşım araçlarından **en ağır** olan otobüs, **en hafif** olan motosiklettir. Otomobil ise motosikletten **ağır**, otobüsten daha **hafif**dir.

Aşağıdaki resme göre verilen cümlelerden doğru olanların yanındaki kutucuğu yeşile, yanlış olanların yanındaki kutucuğu kırmızıya boyayınız.



En ağır top, basketbol topudur.



En hafif top, voleybol topudur.





Tenis topu, voleybol topundan daha ağırdır.




Voleybol topu, futbol topundan daha hafiftir.



Basketbol topu, tenis topundan daha ağırdır.



Aşağıdaki varlıkları ağırdan hafife doğru numaralandırarak sıralayınız.



Aşağıdaki varlıkları hafiften ağıra doğru numaralandırarak sıralayınız.

